

Проверочная работа
по ИСТОРИИ

5 класс

Вариант 1

Инструкция по выполнению работы

На выполнение работы по истории даётся 45 минут. Работа состоит из двух частей и включает в себя 7 заданий. Часть 1 работы содержит задания по истории Древнего мира, в части 2 предложено задание, связанное с памятью народа России о Великой Отечественной войне.

Ответы на задания запишите в поля ответов в тексте работы. В случае записи неверного ответа зачеркните его и запишите рядом новый.

При выполнении работы не разрешается пользоваться учебником, рабочими тетрадями и другими справочными материалами.

При необходимости можно пользоваться черновиком. Записи в черновике проверяться и оцениваться не будут.

Советуем выполнять задания в том порядке, в котором они даны. В целях экономии времени пропускайте задание, которое не удаётся выполнить сразу, и переходите к следующему. Если после выполнения всей работы у Вас останется время, то Вы сможете вернуться к пропущенным заданиям.

Желаем успеха!

Заполняется учителем, экспертом или техническим специалистом

Обратите внимание: в случае, если какие-либо задания не могли быть выполнены целым классом по причинам, связанным с отсутствием соответствующей темы в реализуемой школой образовательной программе, в форме сбора результатов ВПР всем обучающимся класса за данное задание вместо балла выставляется значение «Тема не пройдена». В соответствующие ячейки таблицы заполняется н/п.

Таблица для внесения баллов участника

Номер задания	1	2	3	4	5	6	7	Сумма баллов	Отметка за работу
Баллы									

Часть 1



В этой части работы даны задания по истории Древнего мира.

Прочтите перечень из четырёх тем и выполните задания, относящиеся к этому перечню.

- Перечень тем**
- А) Персидская держава
 - Б) Древний Китай
 - В) Древний Египет
 - Г) Древняя Греция

1

Каждая из иллюстраций, приведённых ниже, относится к одной из указанных в перечне тем. Установите соответствие между темами и иллюстрациями: к каждой теме подберите по одной иллюстрации.



Запишите в таблицу выбранные цифры под соответствующими буквами.

Ответ:

А	Б	В	Г

Перечень тем

А) Персидская держава

Б) Древний Китай

В) Древний Египет

Г) Древняя Греция

2

Прочтите отрывок из исторического источника и определите, к какой из данных тем он относится. В ответе напишите букву, которой обозначена эта тема.

«Говорит Ксеркс царь: Когда я царём стал, была среди этих стран, которые выше написаны такая, где было волнение. Потом мне Аурамазда помощь подал. По воле Аурамазды эту страну я сокрушил и её на прежнее место поставил. И среди этих стран была такая, где прежде дэвы почитались. Потом, по воле Аурамазды, я этот притон дэвов разгромил и провозгласил: "Дэвов не почитай". Там, где прежде дэвы почитались, там совершил поклонение Аурамазде и Арте небесной. И другое было, что делалось дурно, я сделал, чтобы было хорошо. То, что я сделал, всё это я сделал милостью Аурамазды. Аурамазда подал мне помощь, пока я не выполнил дело. Ты, который со временем подумаешь: "Чтобы мне быть счастливым при жизни и чтобы мне по смерти быть приобщённым к Арте", следуй тому закону, который Аурамаздой установлен, что Аурамазду и Арту небесную».

Ответ:

Выберите одну тему из перечня, а затем выполните относящиеся к этому перечню задания только по выбранной Вами теме. Перед выполнением каждого из относящихся к перечню заданий укажите букву, которой обозначена выбранная тема. Указанные в заданиях буквы должны быть одинаковыми.

3

Выбранная тема: (укажите букву в перечне).

Прочтите список слов (словосочетание) и напишите слово (словосочетание), относящееся к выбранной Вами теме.

Царская дорога, «Одиссея», варны, Осирис, конфуцианство, легион.

Ответ: _____

Объясните смысл этого слова (словосочетания).

Ответ: _____

Перечень тем	
А) Персидская держава	Б) Древний Китай
В) Древний Египет	Г) Древняя Греция

4

Выбранная тема: (укажите букву в перечне).

Прочтите список событий (явлений, процессов) и напишите событие (явление, процесс), которое относится к выбранной Вами теме.

Вручение Моисею скрижалей, реформы Перикла, строительство пирамиды фараона Хеопса, правление Цинь Шихуана, разрушение Карфагена, внутренняя политика Дария I.

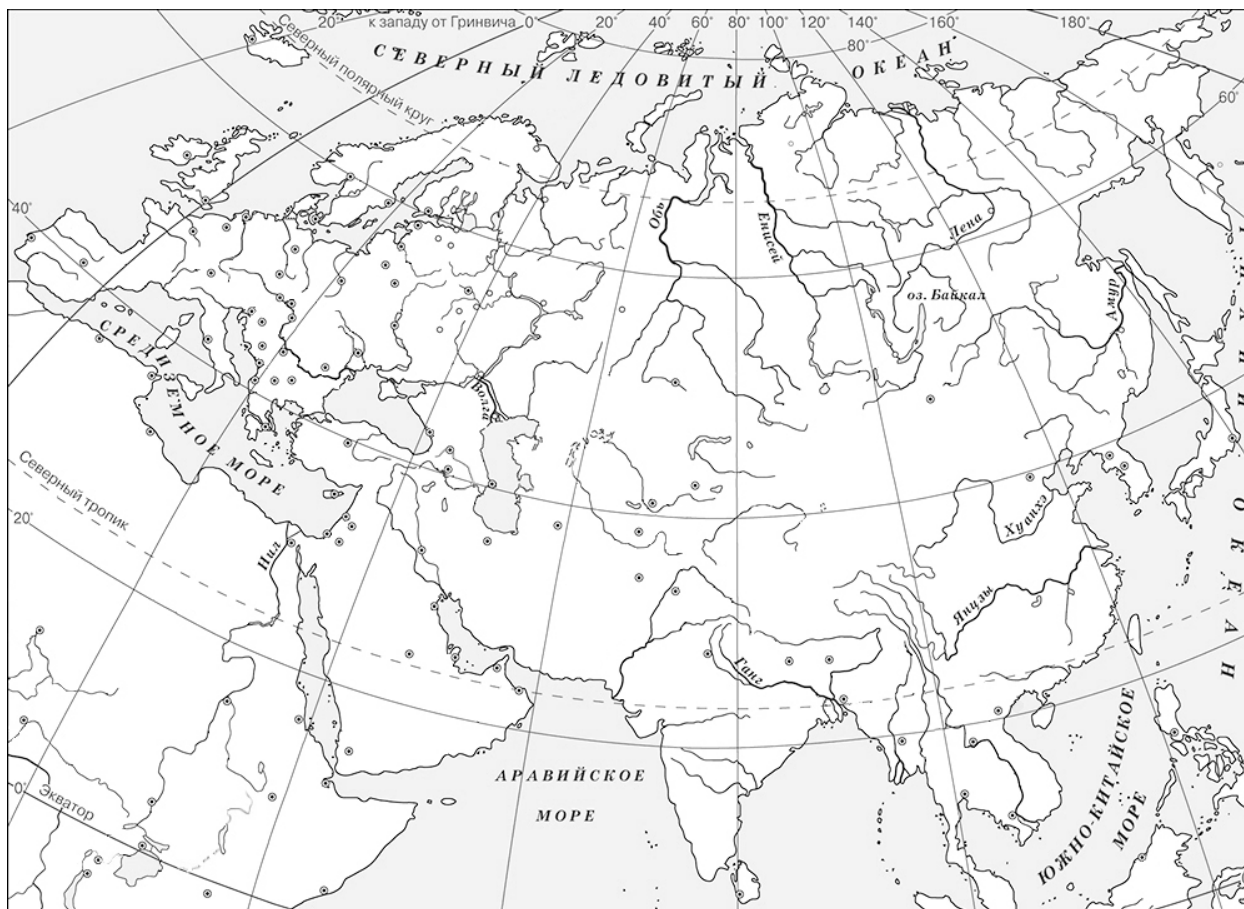
Ответ: _____

Используя знания по истории, расскажите об этом событии (явлении, процессе). Ваш рассказ должен содержать не менее двух исторических фактов.



5

Заштрихуйте на контурной карте один четырёхугольник, образованный градусной сеткой (параллелями и меридианами), в котором полностью или частично находится река Инд.



6

Используя знания исторических фактов, объясните, как природно-климатические условия повлияли на занятия жителей страны, расположенной в бассейне реки Инд.

Ответ: _____

Часть 2

7

Рассмотрите изображение и выполните задание.



Укажите год, когда началась война, юбилею победы в которой посвящена данная памятная монета. Объясните, почему граждане нашей страны хранят память об этой войне.

Ответ: _____
